

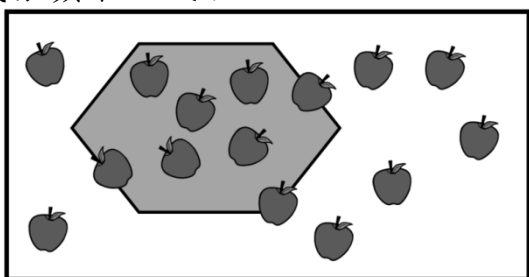
學校：_____ 班級：_____ 姓名：_____ 座號：_____

1. 小明在紙上畫了甲、乙、丙、丁四個圖(如下圖)，哪一個圖畫出來的是角？



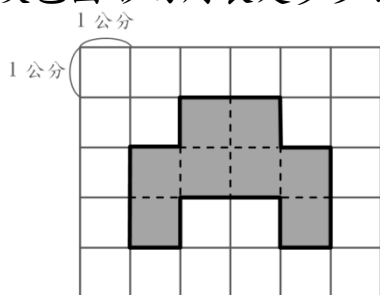
- ① 甲 ② 乙 ③ 丙 ④ 丁

2. 小婷在桌上貼了一堆蘋果貼紙(如下圖)，桌面上有一灰色圖形，這個灰色圖形的內部與周界上共貼了幾張蘋果貼紙？



- ① 5 張 ② 8 張 ③ 10 張 ④ 15 張

3. 在一張平方公分板上畫出一個灰色圖形(如下圖)，這個灰色圖形的周長是多少公分？

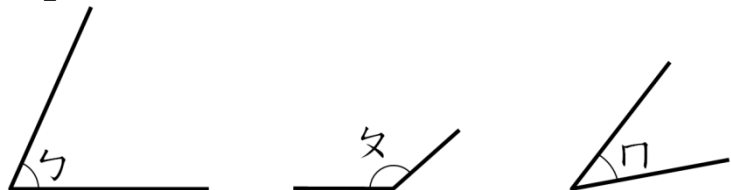


- ① 27 公分 ② 18 公分 ③ 16 公分 ④ 8 公分

4. 小明家到學校需要 20 分鐘，他在上午 7 時 30 分從家裡出發，上午幾時幾分會到學校？

- ① 上午 7 時 10 分 ② 上午 7 時 20 分
③ 上午 7 時 30 分 ④ 上午 7 時 50 分

5. 小明想把 \sphericalangle 、 \sphericalangle 、 \sphericalangle 這三個角(如下圖)，「由大到小」排列出來；下面哪一個正確？



- ① 角勺、角夕、角口 ② 角勺、角口、角夕
③ 角夕、角勺、角口 ④ 角口、角勺、角夕

6. 小明繞公園散步，一共走了 6008 步；下列哪一個是「6008」的正確讀法？

- ① 六零零八 ② 六千零零八
③ 六千零八 ④ 六千八

7. 主題樂園門票一張賣 630 元，慶祝週年慶一張只賣 420 元，爸爸在週年慶時買了 3 張，要花多少元？

- ① 1890 元 ② 1260 元 ③ 1050 元 ④ 423 元

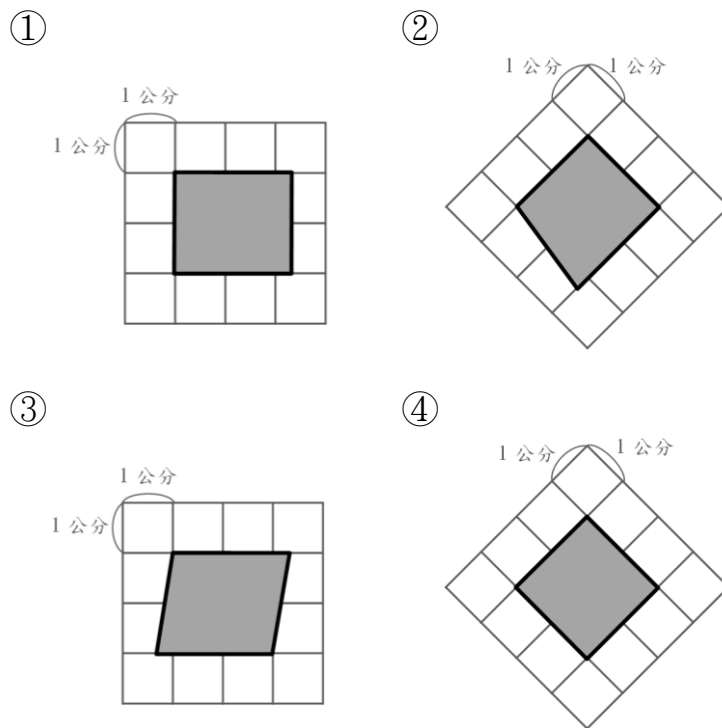
8. 將圓規兩腳張開，針尖與筆尖的距離是 4 公分，畫出一個圓；這個圓的直徑是多少公分？

- ① 2 公分 ② 4 公分 ③ 8 公分 ④ 16 公分

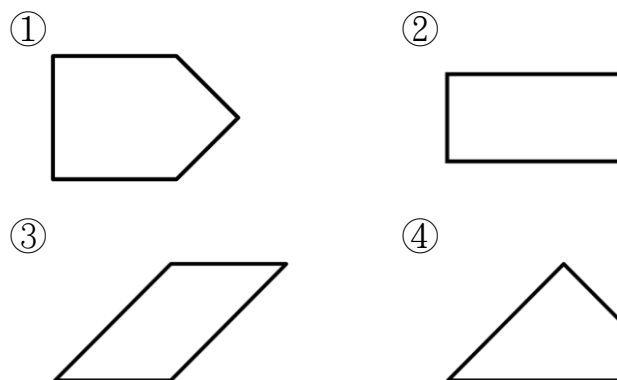
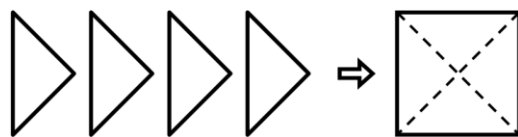
9. 有一個邊長 5 公分的正方形；有關這個圖形的敘述，哪一個是錯誤的？

- ① 四個邊都是 5 公分 ② 四個角都一樣大
③ 每一個邊都一樣長 ④ 只有一個角是直角

10. 四張平方公分板上各有一個灰色圖形，哪一個灰色圖形是正方形？



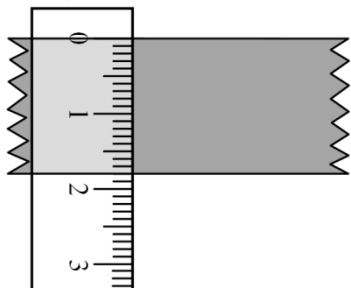
11. 小明將 4 個一樣大的三角形拼成一張正方形色紙(如下圖)，再將這 4 個三角形拼成不同的圖形；下面哪一個圖形不可能是小明拼出來的圖形？



12. 有一個邊長都是 6 公尺的正三角形水池，小美繞著這個水池走了 2 圈，共走了多少公尺？

- ① 8 公尺 ② 12 公尺 ③ 18 公尺 ④ 36 公尺

13. 小明拿出鉛筆盒裡的直尺來測量一卷膠帶的寬度(如下圖)，膠帶的寬度是多長？

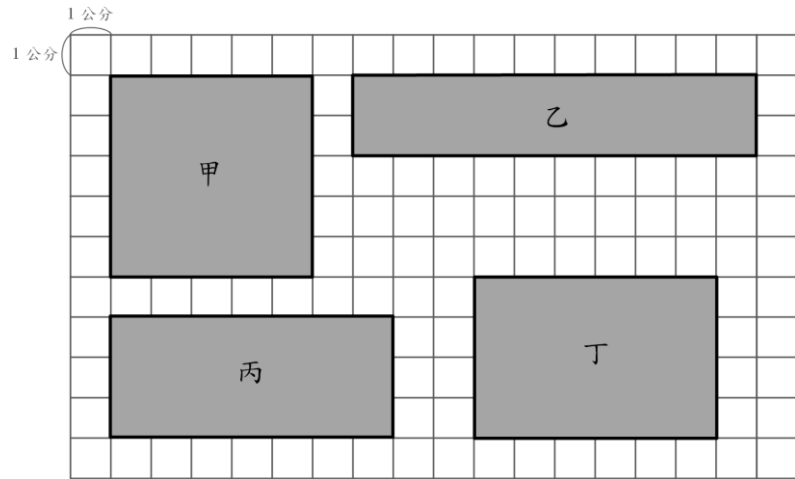


- ① 18 公分 ② 18 毫米 ③ 2 公分 ④ 2 毫米

14. 關於時間單位的換算，下列何者正確？

- ① 75 分=7 時 5 分 ② 30 時=1 日 6 時
③ 2 日 5 時=125 時 ④ 4 分 5 秒=45 秒

15. 小明在平方公分板上畫了甲、乙、丙、丁四個圖形，哪一個圖形的面積是 20 平方公分？



- ① 甲 ② 乙 ③ 丙 ④ 丁

16. 有四個計算重量的算式，哪一個算式算出的重量比「9 公斤」少？

- ① 8 公斤 60 公克+930 公克
② 9 公斤 900 公克-800 公克
③ 12 公斤-2000 公克
④ 300 公斤+550 公克

17. 全校 6 個年級都參加大隊接力比賽，每個年級有 4 班，每班派 15 人；全校共有多少人參加大隊接力？

- ① 360 人 ② 150 人 ③ 60 人 ④ 25 人

18. 「老師把 65 個小蛋糕，平分給 8 位小朋友，每一位小朋友最多可以分到幾個蛋糕？」下列哪一個算式和答案是正確的？

- ① $65 \div 8 = 8 \cdots 1$, $8 + 1 = 9$ 答：9 個
② $65 \div 8 = 8 \cdots 1$ 答：8 個
③ $65 \div 8 = 8 \cdots 1$, $8 - 1 = 7$ 答：7 個
④ $65 - 8 = 57$ 答：57 個

19. 「演唱會昨天已賣出 3285 張票，今天又賣出 1715 張票，兩天共賣出幾張票？」哪一個算式和答案是正確的？

- ①
$$\begin{array}{r} 3285 \\ + 1715 \\ \hline 5000 \end{array}$$
 ②
$$\begin{array}{r} 3285 \\ + 1715 \\ \hline 4000 \end{array}$$
 ③
$$\begin{array}{r} 3285 \\ - 1715 \\ \hline 1570 \end{array}$$
 ④
$$\begin{array}{r} 3285 \\ - 1715 \\ \hline 1470 \end{array}$$

20. 老師帶了 96 位小朋友玩大地遊戲，要進行小朋友的分組；下列哪一種分組方式不能剛好分完？

- ① 分成 3 組 ② 分成 4 組
③ 分成 6 組 ④ 分成 7 組

21. 「一包養樂多有 6 瓶，小傑有 $\frac{3}{6}$ 包，小傑的養樂多比小婷多 $\frac{2}{6}$ 包，小婷有幾包養樂多？」下列哪一個算式和答案是正確的？

- ① $\frac{3}{6} + \frac{2}{6} = \frac{5}{12}$ 答： $\frac{5}{12}$ 包
② $\frac{3}{6} + \frac{2}{6} = \frac{5}{6}$ 答： $\frac{5}{6}$ 包
③ $\frac{3}{6} - \frac{2}{6} = 1$ 答：1 包
④ $\frac{3}{6} - \frac{2}{6} = \frac{1}{6}$ 答： $\frac{1}{6}$ 包

22. 有一條蛋糕平分成 5 塊，爸爸吃了 $\frac{2}{5}$ 條、媽媽吃了 1 塊、妹妹吃了 $\frac{1}{5}$ 條，他們共吃下多少條蛋糕？

- ① $\frac{4}{10}$ 條 ② $\frac{3}{10}$ 條 ③ $\frac{4}{5}$ 條 ④ $\frac{3}{5}$ 條

23. 「小傑口袋裡有 360 元，付了店員 200 元購買一塊 25 元的橡皮擦和一支 85 元的自動鉛筆，店員找回多少元？」下列哪一個算式能算出正確答案？

- ① $200 - 25 - 85$
② $200 - 25 + 85$
③ $360 - 25 - 85$
④ $360 - 25 + 85$

24. 水果店內只剩下 72 顆梨子，老闆再買進 162 顆梨子，老闆想將所有的梨子每 6 顆裝成一盒，共可裝成幾盒？

- ① 15 盒 ② 27 盒 ③ 39 盒 ④ 240 盒

25. 小美買了四百八十六元的玩具手錶後，還買了「二百零幾」元的機器人；她買了兩樣東西大約花了多少元？

- ① 約七百元 ② 約六百元
③ 約三百元 ④ 約二百元