


苗栗縣 105 學年度國民中小學學生學習成就評量數學領域二年級試卷

\_\_\_\_\_年\_\_\_\_\_班\_\_\_\_\_號

( ) 1. 代表一，下面圖形中所代表的數，正確的讀法是什麼？



- (1) 三百七十 (2) 三百七  
(3) 三百零七

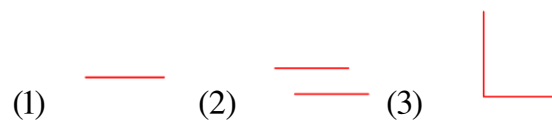
( ) 2. 請問 5 個一，12 個十，7 個百，合起來是多少？

- (1) 527 (2) 627 (3) 825

( ) 3. 美美想把 100 元紙鈔換成十元硬幣，請問可以換幾個？

- (1) 1 個 (2) 10 個 (3) 100 個

( ) 4. 下面哪一個是互相平行的線？



- (1) \_\_\_\_\_ (2) \_\_\_\_\_ (3) \_\_\_\_\_

( ) 5. 媽媽皮包中的錢有以下這麼多，共有多少錢？



- (1) 363 元 (2) 353 元 (3) 343 元


( ) 6. 小美寫作業時，弄髒了題目，請問★的地方要填入哪一個數字？

請問★的地方要填入哪一個數字？

$$\begin{array}{r} 3 \quad 6 \\ + \quad 3 \quad \star \\ \hline 7 \quad 5 \end{array}$$

- (1) 1 (2) 5 (3) 9

( ) 7. 王老師養了三種寵物，分別為狗、貓、兔，三種寵物比體重的情況如下圖，請問哪一種寵物最輕？



- (1) 狗 (2) 貓 (3) 兔

( ) 8. 下列算式哪一個是對的？

(1) 
$$\begin{array}{r} 3 \quad 0 \quad 7 \\ - \quad 4 \quad 2 \\ \hline 3 \quad 4 \quad 5 \end{array}$$

(2) 
$$\begin{array}{r} 3 \quad 0 \quad 7 \\ - \quad 4 \quad 2 \\ \hline 2 \quad 6 \quad 5 \end{array}$$

(3) 
$$\begin{array}{r} 3 \quad 0 \quad 7 \\ - \quad 4 \quad 2 \\ \hline 3 \quad 4 \quad 9 \end{array}$$

( ) 9. 每一個橡皮擦 8 元，姐姐身上有 100 元，買了 5 個橡皮擦後剩下幾元？

- (1) 40 元 (2) 60 元 (3) 92 元

( )10. 凱哥買了 4 包口香糖，每包口香糖有 6 塊，凱哥共有多少塊口香糖？下列哪一個算式是正確的？

- (1)  $6 \times 4 = ( )$  (2)  $4 + 6 = ( )$   
 (3)  $4 + 4 + 4 + 4 + 4 + 4 = ( )$

( )11. 一套故事書有 8 本，老師買了 4 套，共有幾本故事書？

- (1) 12 本 (2) 32 本 (3) 36 本

( )12. 佳佳到書局買文具，她買了一把 25 元的尺，一枝 36 元的自動筆和一個 15 元的橡皮擦，請問她共花了多少錢？

- (1) 66 元 (2) 76 元 (3) 86 元

( )13. 請問 2 公尺也可以說是多少公分？

- (1) 2 公分 (2) 20 公分 (3) 200 公分

( )14. 哥哥有 35 元，弟弟比哥哥少 15 元，兩人共有幾元？

- (1) 20 元 (2) 50 元 (3) 55 元

( )15.  $9 \times 5$  比  $9 \times 9$  少了幾個 9？

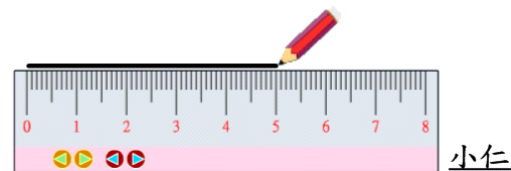
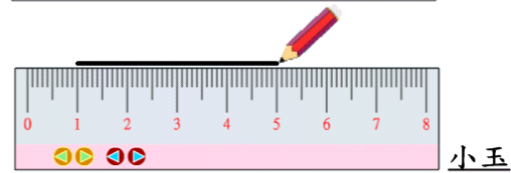
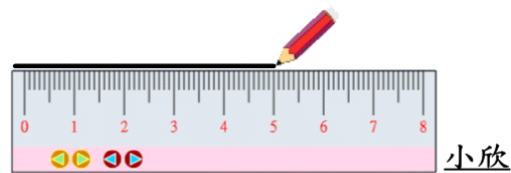
- (1) 4 個 (2) 36 個 (3) 45 個

( )16. 右圖鐘面上是幾點幾分？

- (1) 4 點 55 分  
 (2) 5 點 11 分  
 (3) 5 點 55 分



( )17. 老師請小朋友用直尺畫出一條 5 公分的直線，請問下列哪一位小朋友畫對了？



- (1) 小欣 (2) 小玉 (3) 小仁

( )18. 今天 9 月 30 日，請問明天是幾月幾日？

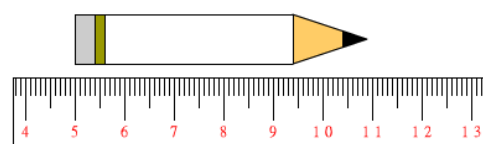
- (1) 9 月 29 日 (2) 9 月 31 日  
 (3) 10 月 1 日

( )19. 媽媽 2 月 6 日到 2 月 8 日到高雄出差，媽媽一共出差幾天？

Feb. 2 月						
日	一	二	三	四	五	六
29	30	31	1	2	3	4
5	6	7	8	9	10	11
12	13	14	15	16	17	18
19	20	21	22	23	24	25
26	27	28				

- (1) 2 天 (2) 3 天 (3) 14 天

( )20. 看圖回答問題：請問下面這枝筆有多長？



- (1) 6 公分 (2) 7 公分 (3) 11 公分

( )21.根據下圖回答問題：姐姐每四個星期要上游泳課，姐姐從7月1日到8月31日總共上了幾次游泳課？

7月							8月						
日	一	二	三	四	五	六	日	一	二	三	四	五	六
						1			1	2	3	4	5
2	3	4	5	6	7	8	6	7	8	9	10	11	12
9	10	11	12	13	14	15	13	14	15	16	17	18	19
16	17	18	19	20	21	22	20	21	22	23	24	25	26
23	24	25	26	27	28	29	27	28	29	30	31		
30	31												

- (1)4次 (2)5次 (3)9次

( )22.芊芊用橡皮擦和夾子測量

鉛筆的長度，她發現這枝鉛筆和4個橡皮擦一樣長，也和5個夾子一樣長，請問一個橡皮擦和一個夾子哪個比較長？



- (1)橡皮擦 (2)夾子 (3)一樣長

( )23.媽媽給凱凱和香香一人一瓶

「養樂多」，他們將「養樂多」倒進自己的茶杯裡喝，如下圖，請問誰喝得比較多？



凱凱的茶杯



香香的茶杯

- (1)凱凱 (2)香香 (3)一樣多

( )24.請問214公分也可以說是多長？

- (1)2公尺、14公分  
(2)20公尺、14公分  
(3)21公尺、4公分

( )25.將1個青蛙玩偶及2個一樣

一樣的小牛玩偶，放在天秤上，如下圖，請問1個小牛玩偶和1個青蛙玩偶哪個比較重？



- (1)小牛玩偶 (2)青蛙玩偶  
(3)一樣重